

# رائز التقوية التشخيصي في مادة الرياضيات

مؤسستي التعليمية: ..... إسمي و نسبي: ..... الأستاد: .....

القدرة على العد من 0 إلى 99

1- ألاحظ و أكمل كتابة الأعداد:

17	18	.....	.....	.....	.....	.....	.....	.....	.....	.....	.....
.....	.....	31	.....	.....	.....	.....	.....	.....	.....	.....	40

القدرة على ترتيب أعداد صحيحة طبيعية محصورة بين 0 و 99

3- أرتب الأعداد التالية من الأكبر إلى الأصغر:

27 , 15 , 98 , 51 , 7

..... > ..... > ..... > ..... > .....

القدرة على تعرف الأعداد مكتوبة بالحروف وبالأرقام

2- أصل بخط كل عدد مكتوب بالحروف بالعدد المكتوب بالأرقام الذي يناسبه:

69

40 + 10

48

50 + 5

- ثمانية و أربعون
- خمسون
- تسعة و ستون
- خمسة و خمسون

القدرة على جمع و طرح عددين بالوضع العمودي

5- أنجز عمليات الجمع و الطرح التالية:

$$\begin{array}{r} + 13 \\ + 8 \\ \hline = \dots \end{array}$$

$$\begin{array}{r} + 34 \\ + 32 \\ \hline = \dots \end{array}$$

$$\begin{array}{r} - 58 \\ - 14 \\ \hline = \dots \end{array}$$

$$\begin{array}{r} - 36 \\ - 26 \\ \hline = \dots \end{array}$$

القدرة على مقارنة الأعداد

4- أقرن الأعداد بوضع الرمز المناسب: < , > أو =

20 + 10 ..... 30

7 ..... 8


31 ..... 13

40 + 8 ..... 48

الزمن: معرفة أيام الأسبوع

6- أكمل كتابة أيام الأسبوع:

الأحد	.....	الجمعة	.....	.....	الثلاثاء	.....
-------	-------	--------	-------	-------	----------	-------



# رائز التقوية التشخيصي في مادة الرياضيات


الأستاذ:

إسمي و نسبي:

مؤسستي التعليمية:


القياس: القدرة على ترتيب الأشياء حسب الطول

8- أرتب الورود من الأطول إلى الأقصر بوضع الأرقام من 1 إلى 5:



الزمن: القدرة على قراءة الساعة

7- إلى كم تشير الساعة؟



تُشير الساعة إلى: .....

القياس: القدرة على قراءة الميزان وترتيب الأشياء حسب الكتلة

9- ألاحظ و أكمل بكتابة: أثقل من أو أخف من أو لها نفس كتلة



الْمِلْعَقَةُ ..... الْفُنْجَانِ

الْكِتَابُ ..... الْحِجَارَةِ

الْبُوطِ ..... الضَّفْدَعَةَ

الهندسة: القدرة على إنشاء أشكال هندسية

11- أرسم الشكل المطلوب:

مُرَبَّعٌ

مُسْتَطِيلٌ

مُتَلَمِّسٌ

القدرة على حل مسألة

10- لدى أحمد 10 دراهم، أعطاه أبوه 7 دراهم و أعطته أمه 5 دراهم. أحسب كم أصبح لدى أحمد من دراهم:

الهندسة: القدرة على تعرف المجسمات

12- ألون المجسمات التي تتدحرج:

